


LE CREAZIONE MATEMATICHE

ANTONELLA VARESÌ 22 MARZO 2021 15:05



Ha fatto l' abaco con i numeri

ha fatto l'abaco

Ha fatto l'abaco con l'operazione sotto!!!!

ha fatto l'abaco con l'operazione sotto e il simboli sotto l'operazione

Andrea a voluto fare i abaco

Abaco 3b con operazione e risultato

ha fato una operazione

abaco con cannuce con 1h 9da 3u e l'operazione sotto

ai fatto l'abaco in 3d

Ha fatto l'abaco



Ci sono degli omini con sopra dei colori é diseana

Ci sono degli omini che diseqnano le palline

sembra una partita di scacchi

Sembra una battaglia con delle spade e i colori sopra ogni uno
sono i colori verde=i bravi e rosso= i cattivi

ci sono gli omini che disegnano le palline per fare delle operazioni

A fatto dello omini inventori della matamatica

Sono dei guerrieri con la spada

ci sono delle persone che fanno un diseqno di un problema

ci sono 8 omini che cercano di risolvere un problema

ai fatto 2 moschettieri con un pallone al centro

sembra un campo di battaglia

Omini che combattono fra loro a chi cade la spada di più di ogni
squadra vince o perde

sono 4 carrarmati rossi e 3 verdi di risiko che sparano 7 bombe

Ci sono omini verdi e rossi



Ci sono 2 orecchie

Ci sono 2 orecchie che secondo me servono a captare

Sembra in un campo da golf, ogni giocatore ha la sua pallina

è un pupazzo con dentro una quantità

E un mostrc

e un omino con 2 orecchie che servono per captare i numeri che deve usare


ha fatto 2 recchie

Ci sono 2 orecchie che devono sentire cosa calcolare

sembra un robot che ti dice i numeri

sembra un coniglio

ha fatto un coniglio con 10 carote manaiate a metà



che difficile! ci sono tanti numeri, e alcuni nascosti

allora io dico che quello al centro e una torre di numeri e invece quei due dilato sono delle fontanelle con i segni

È un castello matematico, regina Moltiplica=moltiplica e il re Sottrao= sottrae

E la festa della matematica

e un castello matematico con dei numeri grani e alcuni sono nascosti nelle quantità

È un castello matematico del più

e un castello matematico dove ci sono delle quantità nascoste e ci sono anche il 100 e il 1000000 il più e anche dell'erba


ci sono numeri nascosti e un +

Ci sono molti numeri alcuni nascosti ma anche molto grandi

e' un castello dove vivono i numeri

un castello con 9 antenne e 3 torri con grandi numeri, alcuni nascosti

Un castello con numeri nascosti



Ci sono i segni

Ci sono dei segni (il :)

Ci sono dei segni molto strani e divertenti

Ci sono dei segni

Sono i simboli delle operazioni

ci sono dei simboli matematici e c'è la geometria

Mattia ha voluto ripassare i segni


ci sono tutti i segni matematici

ha fatto i segni della matematica

Nicolini secondo me ha fatto un'esplorazione dei segni e così se se lo tiene tutto lui (E ce lo fa tenere un po' anche a noi) Così non ci dimentichiamo del più del meno e la moltiplicazione del diviso

ha fatto un quadro di geometria e matematica messe insieme

ho fatto i segni matematici



Ci sono i numeri

Fa le operazioni

Secondo me è una calcolatrice

secondo me e' un parco giochi matematico

Secondo me è una scuola matematica, con addizioni, sottrazioni, moltiplicazioni e divisioni

E il villaggio matematico

Sono dei numeri che si nascondono

è un parco giochi matematico con i numeri e alcuni nascosti

è un disegno astratto matematico

sono dei giochi matematici

sembra una fabbrica di numeri

ci sono i numeri persi

c'è un omino che vende caramelle numerate

ANTONELLA VARESI 23 MARZO 2021 15:46



sembra un castello circondato da lance e da parte c'è il numero dell'oggetto che c'è sopra ad ogni cucchiaino

contare i cucchiaini

Un castello che fa tutte le operazioni

una torre arcobaleno che fa le operazioni

E' una torre arcobaleno

e un castello con le lance attorno e nel davanti dei cucchiaini c'è una quantità

ha fatto delle spade colorate

e una base con delle spadine come protezione

È una torre matematica con dei cannoni che la proteggono

sembra una bilancia

sembra un piccolo castello circondato da numeri

ha fatto 1 patatina 12 stelle 12 stelle 5 paste unisime 1 più 12 più 12 più 5 uguale 30

È una torre circondata da numeri?

ha fatto un orologio magico con 18 ore



contro quale squadra dovete giocare? secondo me di matematico ci sono i numeri delle magliette

i numeri delle magliette

è il calcio matematico con i numeri sopra le magliette

Sembra un calcio balilla

È un campo da calcio, sulle magliette scritto il numero, in campo ci sono in panchina ci sono quelli con più giocatori o meno

ci sono degli omini che giocano a calcio e con sopra i numeri che sono delle magliette. e una specie di calcio matematico

ci sono i numeri dei giocatori


ci sono degli omini che giocano a calcio e fanno delle operazioni

ci sono dei numeri che giocano a calcio

sono le magliette con i numeri

sembra una partita di calcio con gli omini con i numeri sulle magliette e gli spettatori che guardano la partita

Ci sono degli omini che giocano con magliette numerate



Fa le moltiplicazioni

Ha fatto le moltiplicazioni con cose molto strane!!!!!!

ha fatto le moltiplicazioni e alcuni numeri non sono scritti


scritti

E' un'operazione

ha fatto una moltiplicazione della tabellina del 3 e del 10

ha fatto una strana operazione

Sembra una sottrazione....



questo disegno é tutto matematico perché é una linea dei decimali

Ci sono scritti i numeri

contare i quadretti

È una bellissima linea dei numeri decimali

e' una linea dei numeri decimali


È una linea dei numeri decimali che potrebbe servire per i litri.

È una meravigliosa linea dei numeri decimali

ha fatto la linea dei numeri decimali

è una linea dei decimali senza numeri dispari.

ha fatto la tabellina del 2 trasformata in litri



sembra una sottrazione con il risultato non corretto

il risultato c'è, apri bene l'immagine e falla scorrere

e un operazione inversa senza risultato

È una sottrazione, ma 4 e' un numero più piccolo di 5 ?

come far venire risultato


È un operazione senza risultato

ha fatto un' operazione incompleta

ha fatto una operazione ma sbagliata

ha fatto la sottrazione

ha cercato di farci un tranello ma lo abbiamo scoperto!!!



Ci sono il più il meno e tante altre cose

Il +, il -, e altre cose

c'e' il piu' c'e' anche il meno il diviso il per c'e' il crescente

c'è il + il - il x e il diviso, il meno e il piu sono collegati

Il + e il -

È un percorso matematico

ci sono dei segni matematici

È tipo una macchina matematica

ci sono i segni della matematica

c'è dei disegni di per il più il meno il diviso

sono i segni delle operazioni collegati da 1 filo

C'è il più il meno il diviso



una linea dei numeri con dei numeri che non si distinguono ma si distingue solo il 30

C'è scritto la velocità

La velocità

c'e' scritto quanto le auto devono andare veloci

secondo me la velocità con i chilometri

È un castello con le auto che lavorano coi sacchetti di soldi

e una gara matematica con i numeri di quanti chilometri orari devono andare

E una Gara matematica

Dice di quanto c'è da andare veloci

e una pista ciclabile con i parcheggi a destra e a sinistra ci sono 6 torrioni che prendono i numeri ce il limite di velocità e quante bici possono andare da ogni parte. 30 a destra e 30 a sinistra

ci vedo solo il 6 e il 30

i numeri del 30

contano le macchine e sono 30 macchine

ha fatto una strada dove non si può accelerare più di 30 di velocità e tanti parcheggi

Sembra una strada con un cartello che indica la velocità



Ci sono numeri sparsi in giro

Io non vedo niente di matematico però è super creativo e dei numeri ci sono

ci sono dei numeri nascosti con le quantità

I numeri che giocano a nascondino

Anita secondo me ha fatto il meno, i numeri che ci sono nei manichi dei cucchiaini misurano la lunghezza. Brava Anita!

in alcuni punti ha messo secondo, me delle quantità

Ci sono molti numeri sparsi

sembra che i numeri giochino a fare delle corse

i numeri stiano giocando a nascondino

sembra una merenda matematica

Ci sono numeri sparsi



Secondo me questa creazione rappresenta quando fai gli insiemi

sembra che ci sia una strada che porta a degli insiemi matematici

Strada che porta a tanti insiemi

e una strada che porta a degli insiemi

Ha fatto dei gruppi

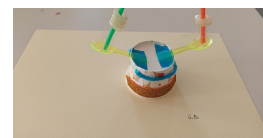
È pieno di insiemi, la strada è fatta di palline che fra un po' saranno unite da altri insiemi.

ha rappresentato insiemi!!!!

ha fatto dei raggruppamenti

ha voluto fare degli insiemi. con un percorso che va dove ci sono gli insiemi, e dentro gli insiemi ci sono delle quantità.

ai fatto gli insiemi



ha fatto l'abaco con le centinaia e le migliaia

sembra un abaco con 4 da una parte e 2 dall'altra

È una bilancia

ha fatto l'abaco con 4 centinaia e 2 migliaia

E un abaco?

È una bilancia, dice se le cose pesano uguale o no

È un abaco con le centinaia e le migliaia

è un abaco con il 1000 e il 100

sembra un giocatore che gioca con 4h e 2da

Un abaco bilancia

Per me non c'è niente di matematico, però assomiglia ad un parco giochi

C'è un bel po' di geometria e anche un po' di matematica perché ha fatto degli insiemi unioni

sembra che ci sia un po di matematica e anche un po di geometria

sembrano le forme di geometria

sembra che ci sono delle quantità sparse in giro e poi c'è una forma geometrica

Sembra l'insieme unione

ha voluto che ci sia un po' di geometria e di matematica

Io qui dentro non ci vedo niente di matematico però c'è molta creatività

Sembra geometria cose

Ha fatto dei gruppi

ci sono dei gruppi e delle quantità e vedo anche un po di geometria

ai fatto l'insieme unione