


# LE CREAZIONE MATEMATICHE

Fatto con 3^ Agazzano

ANTONELLA VARESI 22 MARZO 2021 15:05

ANTONELLA VARESI 22 MARZO 2021 17:56

## ANDREA



Ha fatto l' abaco con i numeri – MARCOFUMAGALLISTUDENTI

ha fatto l'abaco – SAUMYABALAKRISHNANSTUDENTI

Ha fatto l'abaco con l'operazione sotto!!!! – ALICESECHISTUDENTI

ha fatto l'abaco con l'operazione sotto e il simboli sotto l'operazione  
– AHMEDDERVISHISTUDENTI

Andrea a voluto fare i abaco – IACOPOCOENTANUGISTUDENTI

Abaco 3b con operazione e risultato – GAIAHAKASTUDENTI

ha fato una operazione – MATIATALISTUDENTI

abaco con cannuce con 1h 9da 3u e l'operazione sotto  
– BONGIORNI DALILA

ai fatto l'abaco in 3d – MATTIANICOLINISTUDENTI

Ha fatto l'abaco – SERENAMAFFISTUDENTI


ANTONELLA VARESI 22 MARZO 2021 18:07

## MATIA

tali.jpg

di Antonella Varesi

GOOGLE DRIVE



Ci sono degli omini con sopra dei colori é disegna  
– MARCOFUMAGALLISTUDENTI

Ci sono degli omini che disegnano le palline  
– SERENAMAFFISTUDENTI

sembra una partita di scacchi – SAUMYABALAKRISHNANSTUDENTI

Sembra una battaglia con delle spade e i colori sopra ogni uno  
sono i colori verde=i bravi e rosso= i cattivi  
– MARCOVICCARELLISTUDENTI

ci sono gli omini che disegnano le palline per fare delle operazioni  
– ALICESECHISTUDENTI

A fatto dello omini inventori della matamatica  
– EGLISARDTAFANISTUDENTI

Sono dei guerrieri con la spada – SIMONECORRADISTUDENTI

ci sono delle persone che fanno un disegno di un problema  
– AHMEDDERVISHISTUDENTI

ci sono 8 omini che cercano di risolvere un problema  
– IACOPOCOENTANUGISTUDENTI

ai fatto 2 moschettieri con un pallone al centro  
– MATTIANICOLINISTUDENTI

sembra un campo di battaglia – ANDREA

Omini che combattono fra loro a chi cade la spada di più di ogni  
squadra vince o perde – GAIAHAKASTUDENTI

sono 4 carrarmati rossi e 3 verdi di risiko che sparano 7 bombe  
– BONGIORNI DALILA

Ci sono omini verdi e rossi – BALLERINI GIORGIO

ANTONELLA VARESI 22 MARZO 2021 17:54

## EGLISARD

Eglisard.jpg

di Antonella Varesi

GOOGLE DRIVE



Ci sono 2 orecchie – MARCOFUMAGALLISTUDENTI

Ci sono 2 orecchie che secondo me servono a captare  
– SERENAMAFFISTUDENTI

Sembra in un campo da golf, ogni giocatore ha la sua pallina  
– GAIAHAKASTUDENTI

è un pupazzo con dentro una quantità – AHMEDDERVISHISTUDENTI

E un mostro – SIMONECORRADISTUDENTI

e un omino con 2 orecchie che servono per captare i numeri che  
deve usare – IACOPOCOENTANUGISTUDENTI

ha fatto 2 recchie. – MATTIANICOLINISTUDENTI

Ci sono 2 orecchie che devono sentire cosa calcolare  
– MARCOCICCARELLISTUDENTI

sembra un robot che ti dice i numeri – ANDREA

sembra un coniglio – SAUMYABALAKRISHNANSTUDENTI

ha fatto un coniglio con 10 carote mangiate a metà  
– BONGIORNI DALILA

ANTONELLA VARESI 22 MARZO 2021 17:56

## ALICE

ALICE.jpg

di Antonella Varesi

GOOGLE DRIVE



che difficile! ci sono tanti numeri, e alcuni nascosti  
– ANITACHERCHIPALMIERISTUDENTI

allora io dico che quello al centro è una torre di numeri e invece  
quei due dilato sono delle fontanelle con i segni  
– SAUMYABALAKRISHNANSTUDENTI

È un castello matematico, regina Moltiplica=moltiplica e il re  
Sottrao= sottrae – GAIAHAKASTUDENTI

E la festa della matematica – EGLISARDTAFANISTUDENTI

e un castello matematico con dei numeri grandi e alcuni sono  
nascosti nelle quantità – AHMEDDERVISHISTUDENTI

È un castello matematico del più – SIMONECORRADISTUDENTI

e un castello matematico dove ci sono delle quantità nascoste e ci  
sono anche il 100 e il 1000000 il più' anche dell'erba  
– IACOPOCOENTANUGISTUDENTI

ci sono numeri nascosti e un + – MATTIANICOLINISTUDENTI

Ci sono molti numeri alcuni nascosti ma anche molto grandi  
– MARCOCICCARELLISTUDENTI

e' un castello dove vivono i numeri – ANDREA

un castello con 9 antenne e 3 torri con grandi numeri, alcuni  
nascosti – BONGIORNI DALILA

Un castello con numeri nascosti – SERENAMAFFISTUDENTI


ANTONELLA VARESI 22 MARZO 2021 18:03

## MATTIA

NICO.jpg

di Antonella Varesi

GOOGLE DRIVE



Ci sono i segni – MARCOFUMAGALLISTUDENTI

Ci sono dei segni (il :) – SERENAMAFFISTUDENTI

Ci sono dei segni molto strani e divertenti  
– MARCOCICCARELLISTUDENTI

Ci sono dei segni – EGLISARDTAFANISTUDENTI

Sono i simboli delle operazioni – SIMONECORRADISTUDENTI

ci sono dei simboli matematici e c'è la geometria  
– AHMEDDERVISHISTUDENTI

Mattia ha voluto ripassare i segni – IACOPOCOENTANUGISTUDENTI

ci sono tutti i segni matematici – ANDREA

ha fatto i segni della matematica – SAUMYABALAKRISHNANSTUDENTI

Nicolini secondo me ha fatto un'esplorazione dei segni e così se se  
lo tiene tutto lui (E ce lo fa tenere un po' anche a noi ) Così non ci  
dimentichiamo del più del meno e la moltiplicazione del diviso  
– GAIAHAKASTUDENTI

ha fatto un quadro di geometria e matematica messe insieme  
– BONGIORNI DALILA

ho fatto i segni matematici – MATTIANICOLINISTUDENTI

ANTONELLA VARESI 22 MARZO 2021 18:06

## SERENA

Serena.jpg

di Antonella Varesi

GOOGLE DRIVE



Ci sono i numeri – MARCOFUMAGALLISTUDENTI

Fa le operazioni – SERENAMAFFISTUDENTI

Secondo me è una calcolatrice – MARCOCICCARELLISTUDENTI

secondo me è un parco giochi matematico – ALICESECCISTUDENTI

Secondo me è una scuola matematica, con addizioni, sottrazioni  
, moltiplicazioni e divisioni – GAIAHAKASTUDENTI

E il villaggio matematico – EGLISARDTAFANISTUDENTI

Sono dei numeri che si nascondono – SIMONECORRADISTUDENTI

è un parco giochi matematico con i numeri e alcuni nascosti  
– AHMEDDERVISHISTUDENTI

è un disegno astratto matematico – MATTIANICOLINISTUDENTI

sono dei giochi matematici – IACOPOCOENTANUGISTUDENTI

sembra una fabbrica di numeri – ANDREA

c'è un omino che vende caramelle numerate – BONGIORNI DALILA

c'è un omino che vende caramelle numerate – BONGIORNI DALILA

ANTONELLA VARESI 23 MARZO 2021 15:46

## GAIA

GAIA.jpg

di Antonella Varesi

GOOGLE DRIVE



sembra un castello circondato da lance e da parte c'è il numero dell'oggetto che c'è sopra ad ogni cucchiaio – ANITACHERCHIPALMIERISTUDENTI

contare i cucchiai – ENEADUSHKUSTUDENTI

Un castello che fa tutte le operazioni – SERENAMAFFISTUDENTI

una torre arcobaleno che fa le operazioni – ALICESECCHESTUDENTI

E una torre arcobaleno – SIMONECORRADISTUDENTI

e un castello con le lance attorno e nel davanti dei cucchiai c'è una quantità – AHMEDDERVISHISTUDENTI

ha fatto delle spade colorate – MATTIANICOLINISTUDENTI

e una base con delle spadine come protezione – IACOPOCOENTANUGISTUDENTI

È una torre matematica con dei cannoni che la proteggono – MARCOCICCCARELLISTUDENTI

sembra una bilancia – ANDREA

sembra un piccolo castello circondato da numeri – SAUMYABALAKRISHNANSTUDENTI

ha fatto 1 patatina 12 stecche 12 stecche 5 paste unisime 1 più 12 più 12 più 5 uguale 30 – MATIATALISTUDENTI

È una torre circondata da numeri? – BALLERINI GIORGIO

ha fatto un orologio magico con 18 ore – BONGIORNI DALILA

ANTONELLA VARESI 22 MARZO 2021 18:00

## MARCO F.

MARCOF.jpg

di Antonella Varesi

GOOGLE DRIVE



contro quale squadra dovete giocare? secondo me di matematico ci sono i numeri delle magliette – ANITACHERCHIPALMIERISTUDENTI

i numeri delle magliette – ANDREA

è il calcio matematico con i numeri sopra le magliette – AHMEDDERVISHISTUDENTI

Sembra un calcio balilla – SIMONECORRADISTUDENTI

È un campo da calcio, sulle magliette scritto il numero, in campo ci sono in panchina ci sono quelli con più giocatori o meno – GAIAHAKASTUDENTI

ci sono degli omini che giocano a calcio e con sopra i numeri che sono delle magliette. e una specie di calcio matematico – IACOPOCOENTANUGISTUDENTI

ci sono i numeri dei giocatori – MATTIANICOLINISTUDENTI

ci sono degli omini che giocano a calcio e fanno delle operazioni – ALICESECCHESTUDENTI

ci sono dei numeri che giocano a calcio – SAUMYABALAKRISHNANSTUDENTI

sono le magliette con i numeri – MATIATALISTUDENTI

sembra una partita di calcio con gli omini con i numeri sulle magliette e gli spettatori che guardano la partita – BONGIORNI DALILA

Ci sono degli omini che giocano con magliette numerate – SERENAMAFFISTUDENTI


ANTONELLA VARESI 22 MARZO 2021 17:56

## ENEA

Enea.jpg

di Antonella Varesi

GOOGLE DRIVE



Fa le moltiplicazioni – SERENAMAFFISTUDENTI

Ha fatto le moltiplicazioni con cose molto strane!!!!!! – MARCOCICCCARELLISTUDENTI

ha fatto le moltiplicazioni e alcuni numeri non sono scritti – AHMEDDERVISHISTUDENTI

scritti – AHMEDDERVISHISTUDENTI

E un'operazione – SIMONECORRADISTUDENTI

ha fatto una moltiplicazione della tabellina del 3 e del 10 – BONGIORNI DALILA

ha fatto una strana operazione – MATTIANICOLINISTUDENTI

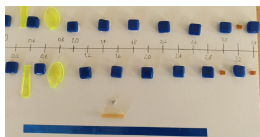
ANTONELLA VARESI 22 MARZO 2021 17:56

## AHMED

### AHMED.jpg

di Antonella Varesi

GOOGLE DRIVE



questo disegno é tutto matematico perché é una linea dei decimali

– ANITACHERCHIPALMIERISTUDENTI

Ci sono scritti i numeri – MARCOFUMAGALLISTUDENTI

contare i quadreti – ENEADUSHKUSTUDENTI

È una bellissima linea dei numeri decimali

– MARCOCICCARELLISTUDENTI

e' una linea dei numeri decimali – ALICESECCHISTUDENTI

È una linea dei numeri decimali che potrebbe servire per i litri.

– GAIAHAKASTUDENTI

È una meravigliosa linea dei numeri decimali

– EGLISARDTAFANISTUDENTI

ha fatto la linea dei numeri decimali

– SAUMYABALAKRISHNANSTUDENTI

è una linea dei decimali senza numeri dispari.

– MATTIANICOLINISTUDENTI

ha fatto la tabellina del 2 trasformata in litri – BONGIORNI DALILA

ANTONELLA VARESI 22 MARZO 2021 18:07

## SIMONE

### Simo.jpg

di Antonella Varesi

GOOGLE DRIVE



sembra una sottrazione con il risultato non corretto

– ANITACHERCHIPALMIERISTUDENTI

il risultato c'è, apri bene l'immagine e falla scorrere

– ANTONELLA VARESI

e un operazione inversa senza risultato – AHMEDDERVISHISTUDENTI

È una sottrazione, ma 4 e' un numero più piccolo di 5 ?

– GAIAHAKASTUDENTI

come far venire risultato – GAIAHAKASTUDENTI

È un operazione senza risultato – MARCOCICCARELLISTUDENTI

ha fatto un' operazione incompleta. – MATTIANICOLINISTUDENTI

ha fatto una operazione ma sbagliata – ANDREA

ha fatto la sottrazione – SAUMYABALAKRISHNANSTUDENTI

ha cercato di farci un tranello ma lo abbiamo scoperto!!!

– BONGIORNI DALILA


ANTONELLA VARESI 22 MARZO 2021 18:03

## IACOPO

### IACOPO.jpg

di Antonella Varesi

GOOGLE DRIVE



Ci sono il più il meno e tante altre cose

– MARCOFUMAGALLISTUDENTI

Il+, il -, e altre cose – SERENAMAFFISTUDENTI

c'e' il piu' c'e' anche il meno il diviso il per c'e' il crescente

– ANDREA

c'è il + il - il x e il diviso, il meno e il piu sono collegati

– AHMEDDERVISHISTUDENTI

Il+e il : – SIMONECORRADISTUDENTI

È un percorso matematico – GAIAHAKASTUDENTI

ci sono dei segni matematici – MATTIANICOLINISTUDENTI

È tipo una macchina matematica – MARCOCICCARELLISTUDENTI

ci sono i degni della matematica – SAUMYABALAKRISHNANSTUDENTI

cisono dei diseni di per è piu è meno è diviso – MATIATALISTUDENTI

sono i segni delle operazioni collegati da 1 filo – BONGIORNI DALILA

C'è il più il meno è il diviso – BALLERINI GIORGIO

ANTONELLA VARESI 22 MARZO 2021 18:03

## MARCO C.

### Marco c.jpg

di Antonella Varesi

GOOGLE DRIVE



una linea dei numeri con dei numeri che non si distinguono ma si distingue solo il 30 – ANITACHERCHIPALMIERISTUDENTI

C'è scritto la velocita – MARCOFUMAGALLISTUDENTI

La velocità – SERENAMAFFISTUDENTI

c'e' sritto quanto le auto devono andare veloci – ANDREA

secondo me la velocita' con i chilometri – ALICESECCHISTUDENTI

È un castello con le auto che lavorano co dei sacchetti di soldi – EGLISARDTAFANISTUDENTI

e una gara matematica con i numeri di quanti chilometri orari devono andare – AHMEDDERVISHISTUDENTI

E una Gara matematica – SIMONECORRADISTUDENTI

Dice di quanto c'è da andare veloci – GAIAHAKASTUDENTI

e una pista ciclabile con i parcheggi a destra e a sinistra ci sono 6 torri che prendono i numeri ce il limite di velocità e quante bici possono andare da ogni parte. 30 a destra e 30 a sinistra

– IACOPOCOENTANUGISTUDENTI

ci vedo solo il 6 e il 30 – MATTIANICOLINISTUDENTI

i numeri del 30 – SAUMYABALAKRISHNANSTUDENTI

contano le macchine e sono 30 macchine – MATIATALISTUDENTI

ha fatto una strada dove non si può accelerare più di 30 di velocità e tanti parcheggi – BONGIORNI DALILA

Sembra una strada con un cartello che indica la velocità – SERENAMAFFISTUDENTI

ANTONELLA VARESI 22 MARZO 2021 18:03

## ANITA

Anita.jpg

di Antonella Varesi

GOOGLE DRIVE



Ci sono numeri sparsi in giro – MARCOFUMAGALLISTUDENTI

Io non vedo niente di matematico però è super creativo e dei numeri ci sono – SAUMYABALAKRISHNANSTUDENTI

ci sono dei numeri nascosti con le quantità – AHMEDDERVISHISTUDENTI

I numeri che giocano a nascondino – SIMONECORRADISTUDENTI

Anita secondo me ha fatto il meno, i numeri che ci sono nei manichi dei cucchiari misurano la lunghezza. Brava Anita! – GAIAHAKASTUDENTI

in alcuni punti ha messo secondo, me delle quantità – IACOPOCOENTANUGISTUDENTI

Ci sono molti numeri sparsi – MARCOCICcarellistudenti

sembra che i numeri giochino a fare delle corse – ANDREA

i numeri stiano giocando a nascondino – MATTIANICOLINISTUDENTI

sembra una merenda matematica – BONGIORNI DALILA

Ci sono numeri sparsi – SERENAMAFFISTUDENTI

ANTONELLA VARESI 22 MARZO 2021 18:03

## DALILA

DALILA.jpg

di Antonella Varesi

GOOGLE DRIVE



Secondo me questa creazione rappresenta quando fai gli insiemi – ALICESECCHESTUDENTI

sembra che ci sia una strada che porta a degli insiemi matematici – ANITACHERCHIPALMIERISTUDENTI

Strada che porta a tanti insiemi – SERENAMAFFISTUDENTI

e una strada che porta a degli insiemi – AHMEDDERVISHISTUDENTI

Ha fatto dei gruppi – SIMONECORRADISTUDENTI

È pieno di insiemi, la strada è fatta di palline che fra un po' saranno unite da altri insiemi. – GAIAHAKASTUDENTI

ha rappresentato insiemi!!!! – GAIAHAKASTUDENTI

ha fatto dei raggruppamenti – ANDREA

ha voluto fare degli insiemi. con un percorso che va dove ci sono gli insiemi, e dentro gli insiemi ci sono delle quantità. – IACOPOCOENTANUGISTUDENTI

ai fatto gli insiemi – MATTIANICOLINISTUDENTI

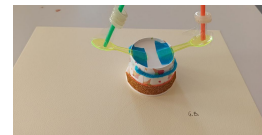
ANTONELLA VARESI 22 MARZO 2021 17:56

## GIORGIO

GIO.jpg

di Antonella Varesi

GOOGLE DRIVE



ha fatto l'abaco con le centinaia e le migliaia – ALICESECCHESTUDENTI

sembra un abaco con 4 da una parte e 2 dall'altra – ANITACHERCHIPALMIERISTUDENTI

È una bilancia – EGLISARDTAFANISTUDENTI

ha fatto l'abaco con 4 centinaia e 2 migliaia – AHMEDDERVISHISTUDENTI

E un abaco? – SIMONECORRADISTUDENTI

È una bilancia, dice se le cose pesano uguale o no – GAIAHAKASTUDENTI

È un abaco con le centinaia e le migliaia – MARCOCICcarellistudenti

è un abaco con il 1000 e il 100 – MATTIANICOLINISTUDENTI

sembra un giocoliere che gioca con 4h e 2da – BONGIORNI DALILA

Un abaco bilancia – SERENAMAFFISTUDENTI

# SAUMYA

Saumya.jpg

di Antonella Varesi

GOOGLE DRIVE



*Io qui dentro non ci vedo niente di matematico però c'è molta creatività* – ANITACHERCHIPALMIERISTUDENTI

*Sembra geometria cose* – EGLISARDTAFANISTUDENTI

*Ha fatto dei gruppi* – SIMONECORRADISTUDENTI

*ci sono dei gruppi e delle quantità e vedo anche un po' di geometria*  
– AHMEDDERVISHISTUDENTI

*ai fatto l'insieme unione* – MATTIANICOLINISTUDENTI

*Per me non c'è niente di matematico, però assomiglia ad un parco giochi* – GAIHAKASTUDENTI

*C'è un bel po' di geometria e anche un po' di matematica perché ha fatto degli insiemi unioni* – MARCOCICcarellISTUDENTI

*sembra che ci sia un po' di matematica e anche un po' di geometria*  
– IACOPOCENTANUGISTUDENTI

*sembrano le forme di geometria* – ANDREA

*sembra che ci sono delle quantità sparse in giro e poi c'è una forma geometrica* – ALICESECCHISTUDENTI

*Sembra l'insieme unione* – SERENAMAFFISTUDENTI

*ha voluto che ci sia un po' di geometria e di matematica*  
– BONGIORNI DALILA

\*\*\*\*\*