

LINDA E ADAM

Nel bosco abbiamo trovato 10 funghi e 8 pietre. Dobbiamo fare un confronto per trovare la differenza. Dobbiamo confrontare i funghi e le pietre per scoprire i funghi in più.

ILLUSTRA LA SITUAZIONE E SPIEGA IL TUO RAGIONAMENTO

10



LA DIFFERENZA È CHE CI SONO 8 PIETRE
È 10 FUNGHI IN PIÙ CI SONO 2 FUNGHI,
PERCHÉ CI SONO 10 FUNGHI E 8 PIETRE
ALLORA I FUNGHI HANNO MAGOR NUMER
DELLE PIETRE

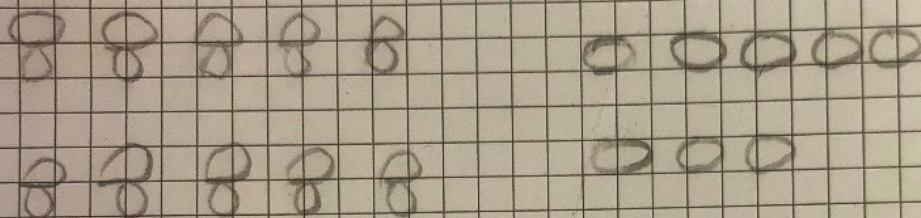
LO CAPI SCI PERCHÉ SUL DISEGNO CHE
ABBIAMO FATTO DELLE FRECETTE SUI FUNGHI
DI TROPPO.

FIAMMA

LINDA E ADAM

Nel bosco abbiamo trovato 10 funghi e 8 pietre. Dobbiamo fare un confronto per trovare la differenza. Dobbiamo confrontare i funghi e le pietre per scoprire i funghi in più.

ILLUSTRA LA SITUAZIONE E SPIEGA IL TUO RAGIONAMENTO



CI SONO 2 FUNGHI IN PIÙ

RILEGGENDO LA SPIEGAZIONE ABBIAMO


CAPITO I FUNGHI IN PIÙ.

EMMA

LINDA E ADAM

Nel bosco abbiamo trovato 10 funghi e 8 pietre. Dobbiamo fare un confronto per trovare la differenza. Dobbiamo confrontare i funghi e le pietre per scoprire i funghi in più.

Illustra la situazione spiega il tuo ragionamento



$$10 - 8 = 2$$

perche abbiamo fatto questa operazione, LA DIFFERENZA

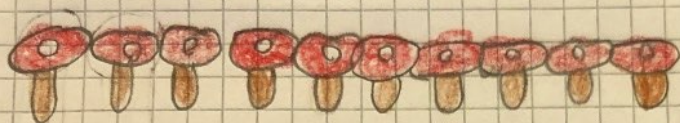
ABBIAMO FATTO QUESTA OPERAZIONE
 $10 - 8 = 2$ VOLEVAMO FARE QUESTA
OPERAZIONE

DAVIDE B.

LINDA E ADAM

Nel bosco abbiamo trovato 10 funghi e 8 pietre. Dobbiamo fare un confronto per trovare la differenza. Dobbiamo confrontare i funghi e le pietre per scoprire i funghi in più.

Illustra la situazione e spiega il tuo ragionamento



$$10 - 8 =$$

I funghi sono 2 in più delle pietre ^{che} sono 2 in meno.

CHIARA

perché

Abbiamo fatto $10 - 8 = 2$

2 funghi in più. CHIARA

Nel bosco abbiamo trovato 10 funghi e 8 pietre. Dobbiamo trovare la differenza. Dobbiamo confrontare i funghi e le pietre per scoprire i funghi in più.

Illustra la situazione e spiega il tuo ragionamento



Abbiamo letto la scheda e
abbiamo disegnato i funghi e
le pietre.
Perché era la più facile

Alessia

LINDA E ADAM

Nel bosco abbiamo trovato 10 funghi e 8 pietre. Dobbiamo fare un confronto per trovare la differenza. Dobbiamo confrontare i funghi e le pietre per scoprire i funghi in più.

Illustra la situazione e spiega il tuo ragionamento.



LE PIETRE SONO 8 E I FUNGHI SONO 10.

SE I FUNGHI SENZOSSERRONE 8 E NE AGGIUNGO 2 FA 10.

E L'OPERAZIONE E $8+2=10$

Uelov

LINDA E ADAM

Nel bosco abbiamo trovato 10 funghi e 8 pietre. Dobbiamo fare un confronto per trovare la differenza. Dobbiamo confrontare i funghi e le pietre per scoprire i funghi in più.

ILLUSTRA LA SITUAZIONE E SPIEGA

TUO RAGIONAMENTO



$$8 + 2 = 10$$

I FUNGHI SONO 2 IN PIÙ.

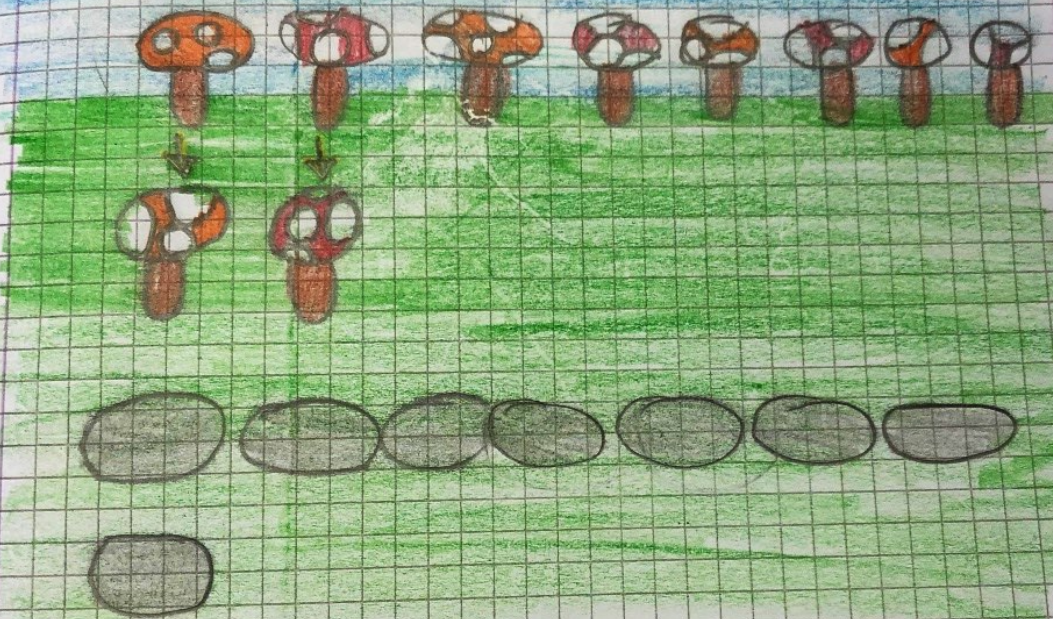
LE PIETRE SONO 2 IN MENO.

SOFLA

LINDA E ADAM

Nel bosco abbiamo trovato 10 funghi e 8 pietre. Dobbiamo fare un confronto per trovare la differenza. Dobbiamo confrontare i funghi e le pietre per scoprire i funghi in più.

ILLUSTRA LA SITUAZIONE E SPIEGA
IL TUO RAGIONAMENTO.



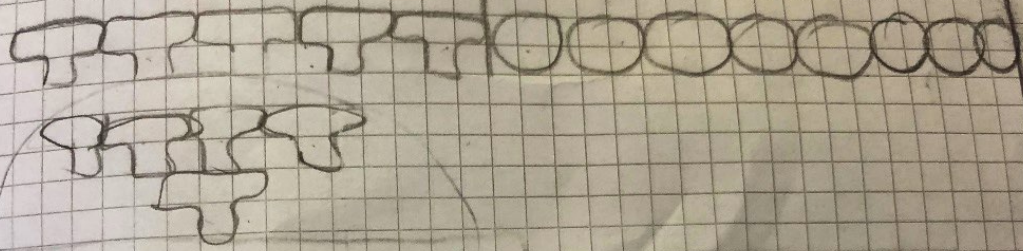
CI SONO 2 FUNGHI IN PIÙ DELLE
PIETRE CHE SONO 8 PERCHÉ I FUNGHI
SONO 10 LO CAPISCI PERCHÉ SE

MARGHE
RITA

LINDA E ADAM

Nel bosco abbiamo trovato 10 funghi e 8 pietre. Dobbiamo fare un confronto per trovare la differenza. Dobbiamo confrontare i funghi e le pietre per scoprire i funghi in più.

ILLUSTRA LA SITUAZIONE E SPIEGA IL TUO RAGIONAMENTO



REBECCA


Mancano 2 pietre per arrivare a 10.

REBECCA

LINDA E ADAM

Nel bosco abbiamo trovato 10 funghi e 8 pietre. Dobbiamo fare un confronto per trovare la differenza. Dobbiamo confrontare i funghi e le pietre per scoprire i funghi in più.

Illustra la situazione e spiega il tuo ragionamento



$$10 - 2 = 8$$

Perchè 10 funghi - 2
funghi = 8 come le
pietre.

maki
a