

Venerdì 21 gennaio 2022  
 Lui ci mostra una scatola  
 di cioccolatini per poco  
 tempo e noi dobbiamo trovare  
 il modo più veloce per  
 contarli.  
 Illustra e spiega il tuo  
 ragionamento




$$4 + 4 + 4 + 4 = 16$$

ABBIAMO FATTO QUESTO MODO PER  
 CONTARE PIÙ VELOCE.

LUCA

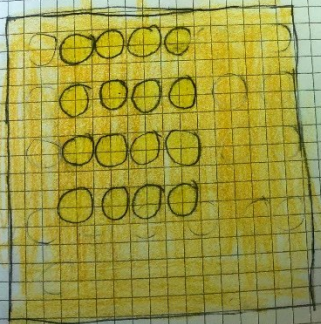
Venerdì 21 gennaio 2022  
 Lui ci mostra una scatola di  
 cioccolatini per poco tempo e noi  
 dobbiamo trovare il modo  
 più veloce per contarli.  
 Illustra e spiega il tuo  
 ragionamento



Abbiamo contato la prima  
 riga e le altre 3

GABRI

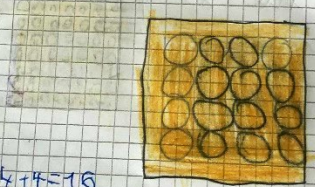
Venerdì 24 gennaio 2022  
 Lui ci mostra una scatola  
 di cioccolatini per  
 poco tempo e noi dobbiamo  
 trovare il modo più  
 veloce per contarli.  
 Illustra e spiega tuo  
 ragionamento



$$4 + 4 + 4 + 4 = 16$$

Abbiamo contato  $4 + 4 + 4 + 4$   
 $+ 4 = 16$  CRIS

Venerdì 24 gennaio 2022  
 Lui ci mostra una scatola  
 di cioccolatini per poco  
 tempo e noi dobbiamo  
 trovare il modo più  
 veloce per contarli.  
 Illustra e spiega il <sup>lato</sup>ragione-  
 amento.




$$4 + 4 + 4 + 4 = 16$$

Abbiamo usato la conta  
 per 4.

C'erano 16 cioccolatini  
 cioè  $4 + 4 + 4 + 4$  cristiani



Venerdì 21 gennaio 2022  
 Lui ci mostra una scatola  
 di cioccolatini per poco  
 tempo e noi dobbiamo  
 trovare il modo più  
 veloce per contarli.  
 Illustra e spiega il  
 tuo ragionamento



$$4 + 4 + 4 + 4 = 16$$

Abbiamo usato la  
 conta per 4, per aver  
 contato per 4 abbiamo  
 fatto 4 8 12 16.

EMMA

Venerdì 21 gennaio 2022  
 Lui ci mostra una scatola  
 di cioccolatini per poco  
 tempo e noi dobbiamo  
 trovare il modo più  
 veloce per contarli.  
 Illustra e spiega il tuo  
 ragionamento

$$4 + 4 + 4 + 4 = 16$$




Abbiamo contato per 4.  
 4 volte per 4 e in tutto  
 sono 16 e ne hanno mangiati  
 16.  
 Marti



Venerdì 21 gennaio 2022  
 Lui ci mostra una scatola  
 di cioccolatini per poco  
 tempo e noi dobbiamo  
 trovare il modo più veloce  
 per contarli.

Illustra e spiega il tuo  
 ragionamento.




$$4 + 12 = 16$$

Abbiamo calcolato la prima  
 colonna e poi le altre 3  
 colonne. CHIARA

Venerdì 21 gennaio 2022  
 Lui ci mostra una  
 scatola di cioccolatini  
 per poco tempo e  
 noi dobbiamo trovare  
 il modo più veloce  
 per contarli.

Illustra la situazione e  
 spiega il tuo  
 ragionamento.



Abbiamo disegnato  
 4 righe da 4.  
 Abbiamo contato 4  
 $+ 4 + 4 + 4$  e l'operazione  
 è  $4 + 4 + 4 + 4 = 16$ .


VIOGA



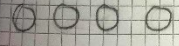
Venerdì 21 gennaio 2022

Lui ci mostra una scatola di cioccolatini per poco tempo e noi dobbiamo trovare il modo più veloce per contarli.

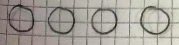
Illustra e spiega il tuo ragionamento.



Ho disegnato un □ e dentro 4 o in 4 righe diverse.



Espressione e questa.

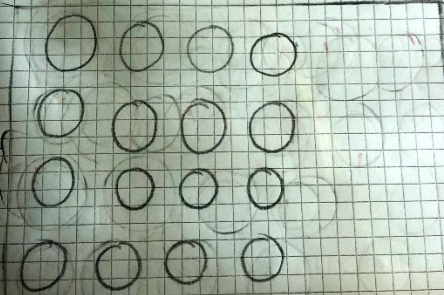


$$4 + 4 + 4 + 4 = 16$$

Venerdì 21 gennaio 2022

Lui ci mostra una scatola di cioccolatini per poco tempo e noi dobbiamo trovare il modo più veloce per contarli.

Illustra e spiega il tuo ragionamento.



Abbiamo contato per 4 così  $4 + 4 + 4 + 4$  Matti